



1) Verifique a ilustração ao lado e cite o nome de cada componente indicado pelas setas.

- 1 - _____
- 2 - _____
- 3 - _____
- 4 - _____
- 5 - _____
- 6 - _____
- 7 - _____




2) Verifique a ilustração ao lado e cite o nome de cada controlador do painel de comando indicado pelas setas.

- 1 - _____
- 2 - _____
- 3 - _____
- 4 - _____
- 5 - _____
- 6 - _____
- 7 - _____
- 8 - _____
- 9 - _____
- 10 - _____



3) Verifique a ilustração ao lado e cite o nome de cada controlador do painel de comando indicado pelas setas.

- 1 - _____
- 2 - _____
- 3 - _____
- 4 - _____
- 5 - _____
- 6 - _____
- 7 - _____
- 8 - _____
- 9 - _____
- 10 - _____



4) Verifique as ilustrações ao lado e cite o nome das projeções do raio central indicado pelas setas:

- Z) _____
- W) _____
- Y) _____

